

---

# Magnétisme

---

- Bertin Faroux Renault, *Électromagnétisme 4*
- Rocard, *Électricité*
- Fleury Mathieu, *Électrostatique, courants continus, magnétisme (T 6)*

# I) Mesure d'un champ magnétique

## 1) Méthodes de mesure

### a) Principes

Les différentes méthodes de mesures de  $B$  sont :

- la balance de Cotton (mesure absolue) : on ne la propose pas ici ;
- l'effet Hall : on dispose de teslamètres à effet Hall, constitués essentiellement d'un capteur à effet Hall traversé par un courant constant, et d'un circuit d'amplification de la tension de Hall (consulter la notice) ;
- le fluxmètre : en déplaçant une bobine exploratrice, l'intégration de la f.e.m. induite dans la bobine donne la variation du flux du champ magnétique. Cette intégration est réalisée avec un circuit à ampli op. La sensibilité de ce fluxmètre électronique est contrôlée en changeant la surface totale  $S$  de la bobine exploratrice.

Signalons l'existence de fluxmètres électro-mécaniques, de conception plus ancienne, constitués d'un galvanomètre sans couple de rappel (plutôt à éviter) ;

- la magnéto-résistance : ce capteur est une résistance  $R$  qui dépend du champ magnétique  $B$ . Il est *non linéaire*, on pourra alors soit utiliser l'abaque (peu précis) du constructeur, soit procéder à un étalonnage  $R(B)$ . Attention à travailler à courant suffisamment faible pour éviter une dérive en température de la magnéto-résistance. Consulter la notice ;
- le SQUID : le principe de fonctionnement du SQUID est basé sur la quantification du flux magnétique dans un anneau supraconducteur (basse température). Il permet la mesure de champs magnétiques très faibles. On n'en dispose pas (plus) ici.

### b) Manipulations

Mesurer le champ magnétique dans l'entrefer d'un aimant permanent. S'entraîner à utiliser le teslamètre à effet Hall et le fluxmètre à ampli op, comparer les valeurs obtenues.

Comment faire pour mesurer le champ magnétique à l'intérieur du fer d'un aimant ?

Réponse : le fluxmètre permet de réaliser une telle mesure.

## 2) Variation du champ sur l'axe des bobines

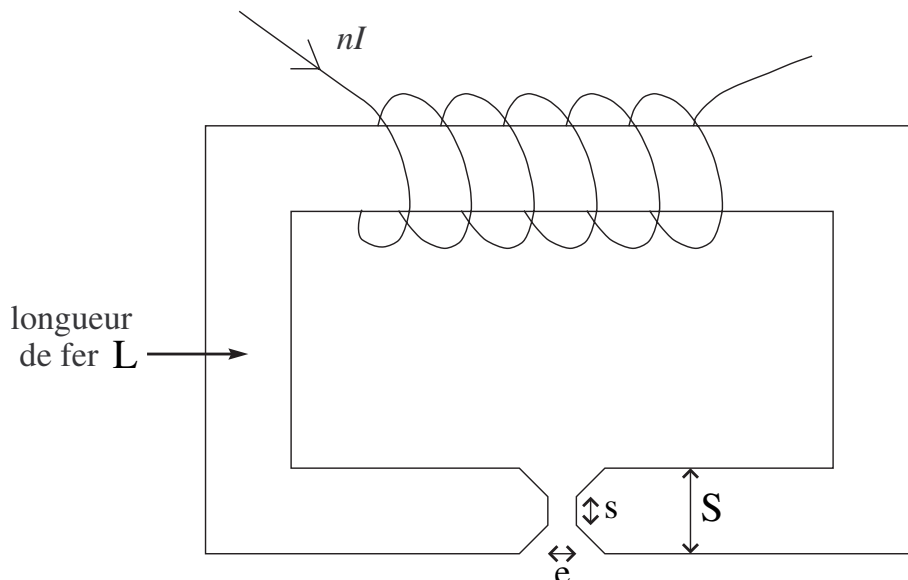
On utilise deux bobines circulaires identiques, de rayon  $R$ , qui peuvent coulisser parallèlement à leur axe dans des rails, et dont l'écartement  $D$  est mesurable.

À l'aide d'un teslamètre (à effet Hall) dont la géométrie permet de déplacer la sonde sur l'axe des bobines en repérant sa position, tracer point par point la courbe donnant le champ magnétique sur l'axe dans différents cas :

- une bobine seule,
- les 2 bobines à distance quelconque,
- les 2 bobines réglées en bobines de Helmholtz :  $D = R$  (Les branchements doivent être faits tels que les bobines créent des champs magnétiques de même sens. Dans le cas contraire, on parle de configuration anti-Helmholtz.). Que peut-on dire du champ entre les deux bobines ?

### 3) Étude de l'électroaimant

C'est un exemple de circuit magnétique ouvert. On propose d'étudier le champ dans l'entrefer.



Démontrer en utilisant la loi de Faraday que :

$$B \approx \frac{\mu_0 n I}{\frac{L}{\mu_r} \frac{s}{S} + e} \quad (1)$$

Le circuit étant ferromagnétique, on peut poser, en absence de saturation, que  $\mu_r \gg 1$ , d'où :

$$B \approx \frac{\mu_0 n I}{e} \quad (2)$$

Voir la notice de l'électroaimant. Attention, les 2 bobines de 5600 spires sont en parallèle, c'est équivalent à 11200 spires parcourues par le courant moitié.

Réaliser les expériences avec les pièces polaires tronconiques ( $s/S = 1/4$ ) :

- c'est la configuration qui permet d'atteindre les champs les plus grands, ce qui est intéressant à étudier.
- c'est celle où le passage de (1) à (2) a le plus grand domaine de validité en  $e$  (par le terme  $s/S$ ).

(les pièces polaires cylindriques seront utilisées lorsque l'on cherchera un grand domaine de champ uniforme). On fera varier l'épaisseur  $e$  entre environ 1 cm (afin de pouvoir glisser la sonde à effet Hall) et 4 cm (diamètre des pièces polaires). On limitera le courant à 4 A (5 A en régime non permanent).

Commencer par faire un calcul d'ordre de grandeur de  $\frac{L}{\mu_r} \frac{s}{S}$  sachant que  $L \simeq 1,40$  m (à vérifier) et sachant que typiquement  $\mu_r > 1000$ . Conclure.

**Courbe  $B = f(I)$  à  $e$  constant :**

Mesurer  $B$  en fonction de  $I$  en prenant la plus petite valeur de  $e$ .

La courbe commence par une zone linéaire. Interpréter et en déduire le nombre de spires.

Comment peut-on expliquer que la courbe s'incline pour les fortes intensités ? En déduire un ordre de grandeur de  $\mu_r$  à l'intensité maximum (la valeur de  $\mu_r$  à faible intensité n'est pas mesurable ici).

**Courbe  $\frac{1}{B} = f(e)$  à  $I$  constant :**

Mesurer  $B$  en fonction de  $e$  en prenant une faible valeur de  $I$  afin de travailler à coup sûr loin de la saturation (1 A au maximum comme on peut voir sur la notice p.9).

Pour vérifier l'expression (1) représenter  $1/B$  en fonction de  $e$  ou  $e$  en fonction de  $1/B$ .

Faire un fit linéaire. Cette loi est-elle validée ?

De la pente déduire le nombre de spires.

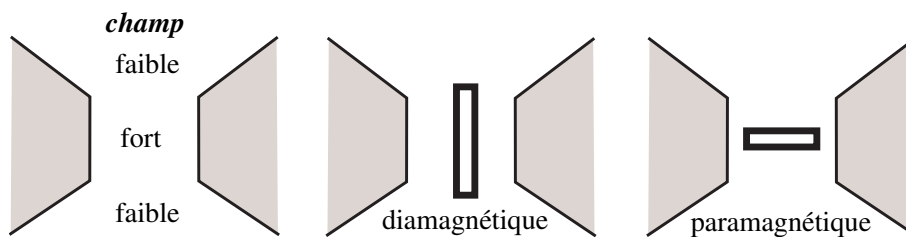
De l'ordonnée à l'origine on peut en déduire  $\mu_r$ , cependant l'expérience montre que ceci conduit le plus souvent à un résultat absurde : il n'est pas rare de trouver une valeur de  $\mu_r$  négative ou nettement inférieure à 1000. En réalité la formule (1) est approchée et de plus  $\mu_r$  subit des variations complexes, même en faible courant, ce qui perturbe gravement la faible ordonnée à l'origine même si les points semblent convenablement alignés. Un choix raisonnable des incertitudes doit conduire à la possibilité d'une ordonnée à l'origine nulle, ce qui traduit le fait que  $\mu_r$  est trop grand pour pouvoir être déterminé ici. En déduire que dans ces conditions le produit  $Be$  est constant à  $I$  donné.

On peut aussi s'intéresser qualitativement au domaine dans lequel le champ peut spatialement être considéré comme uniforme, en particulier lorsque  $e$  devient grand.

## II) Diamagnétisme, Paramagnétisme

### 1) Mise en évidence

À l'aide d'un fil sans torsion, suspendre par le milieu un barreau diamagnétique ou paramagnétique dans l'entrefer d'un électroaimant. On observe les déplacements suivants :



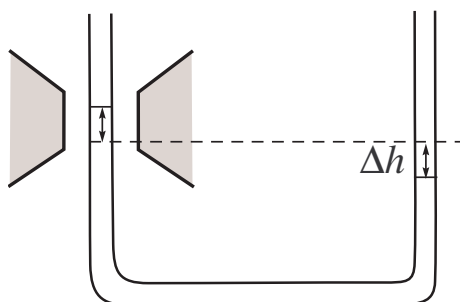
Le barreau diamagnétique se place dans les régions de champ faible, et le barreau paramagnétique dans les régions de champ fort. Il est nécessaire d'utiliser ici les pièces polaires coniques pour avoir de fortes inhomogénéités de champ : comment sont alors les lignes de champ ?

### 2) Mesure de la susceptibilité d'un milieu paramagnétique

Bertin-Faroux-Renaut, électromagnétisme 4, chap. 6

Mettre les pièces polaires tronconiques (Pourquoi?). Placer entre elles une branche d'un tube en U contenant une solution de  $\text{FeCl}_3$ , de concentration et de masse volumique connues. On choisira un écartement de pôles assez faible mais sans risque de casse pour le tube.

Mesurer la dénivellation produite par un champ magnétique en projetant sur un écran la branche située hors de l'entrefer, sur laquelle a été fixé un régle transparent. Le but est de déterminer d'abord la susceptibilité de la solution, puis d'en déduire, assez grossièrement, la susceptibilité de  $\text{FeCl}_3$  solide.



Mesurer le champ dans l'entrefer à l'aide du teslamètre à effet Hall ; bien choisir le niveau d'affleurement **dans l'état final** du liquide au centre de l'entrefer. La susceptibilité de la solution est donnée (dans le système SI) par la relation :

$$\chi \frac{B^2}{2\mu_0} = \rho g 2\Delta h$$

(Refaire le calcul : que représente exactement  $B$  dans cette équation ? Pourquoi l'entrefer doit-il être centré sur la surface libre ? Éventuellement reprendre l'expérience en décalant le tube en U de plusieurs cm vers le haut.).

**Remarque :** il faut faire très attention à la définition de  $\chi$ . Dans le système international d'unités,  $\chi$  est un nombre sans dimension (il peut être pratique de le considérer comme un moment magnétique par unité de volume dans un champ de  $1 \text{ Am}^{-1}$ ). On le calcule à partir de  $\chi_{\text{solide}}$ , la susceptibilité du solide, en appliquant une loi approchée d'additivité des moments magnétiques (loi de Wiedman) : cela suppose que les moments magnétiques n'interagissent pas. L'eau ne jouant qu'un rôle de dilution on a :

$$\frac{\chi_{\text{solide}}}{\chi_{\text{solution}}} = \frac{\rho_{\text{solide}}}{d \times \rho_{\text{eau}} \times r}$$

où  $d$  est la densité de la solution et  $r$  le pourcentage *en masse* de  $\text{FeCl}_3$  dans la solution (savoir retrouver cette formule, qui ne figure pas dans les livres).

En pratique, vérifier que le rôle de l'eau est négligeable, soit en mesurant, soit en calculant la déviation obtenue avec un tube identique contenant de l'eau pure. Les données pour la solution sont inscrites sur la bouteille. Les valeurs de  $\chi_{\text{FeCl}_3}$  et de  $\chi_{\text{H}_2\text{O}}$  en SI sont données dans un des tableaux du Fleury-Mathieu, tome 6 (voir les index en fin d'ouvrage pour retrouver ce tableau)<sup>1</sup>.

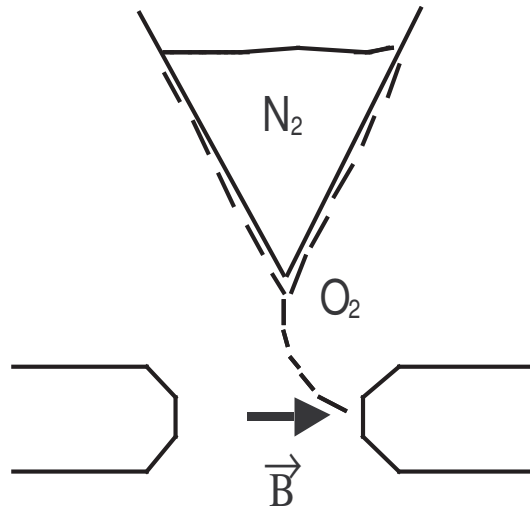
<sup>1</sup>le Handbook donne les valeurs de  $\chi$  en unités CGS, le passage au MKSA ne peut pas se faire par une simple transposition sur le cas de l'eau par exemple, car la "densité" en mol/L, variable d'un corps à l'autre, intervient dans le calcul.

### 3) Paramagnétisme de l'oxygène

Il peut être aisément mis en évidence sur le dioxygène *liquide*, obtenu à partir de diazote liquide. En effet, à  $P_{atm}, T_{vap}(N_2) = 77\text{ K}$ , tandis que  $T_{vap}(O_2) = 91\text{ K}$ .

Pour produire l'oxygène liquide mettre de l'azote liquide dans le cône en cuivre. L'oxygène de l'air se condense à l'extérieur du cône et coule. Mettre le cône juste au-dessus d'un aimant puissant ( $B \approx 1\text{ T}$ ). Lorsque l'oxygène se met à couler, il se dirige vers l'une des pièces polaires (champ fort). S'assurer que le pôle choisi est le plus proche de la pointe, indépendamment de sa polarité.

Éclairer avec une lampe QI, et former l'image sur un écran avec une lentille. Essayer l'extérieur du cône s'il apparaît de la glace due à la vapeur d'eau atmosphérique.



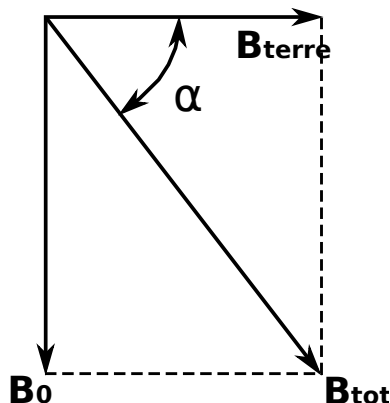
## III) Mesure du champ magnétique terrestre

La boussole des tangentes est un dispositif simple permettant d'obtenir une estimation de la valeur de la composante horizontale du champ magnétique terrestre. Elle est constituée d'une grande bobine plate, verticale, comportant  $N$  spires de rayon  $R$ , au centre de laquelle est placée une aiguille aimantée sur un support horizontal. Le dispositif permet de choisir le nombre de spires de la bobine (de  $N = 1$  à  $N = 5$ ). Attention, ces spires sont de rayons différents. En pratique, on n'utilisera qu'une spire dont on choisira le rayon le plus adapté pour la manipulation.

### 1) Principe de la mesure

La boussole indique la direction du champ magnétique local. Le principe consiste à mesurer la déviation de l'aiguille lorsqu'un champ magnétique est appliqué à l'aide de la spire. Le champ généré par la spire étant connu, il est alors possible de remonter à l'amplitude de la composante horizontale du champ magnétique terrestre. La boussole n'est sensible qu'au champ magnétique contenu dans son plan. Dans la suite, on ne considérera donc que la composante horizontale du champ (notée  $\mathbf{B}_{terre}$ ).

Pour cela, orienter la boussole des tangentes afin que l'aiguille, en l'absence de courant dans les spires, pointe dans le plan de la bobine. Dans cette configuration,  $\mathbf{B}_{\text{terre}}$  est orthogonal au champ généré par la spire noté  $\mathbf{B}_0$ . La déviation de l'aiguille  $\alpha$  permet de repérer la direction du champ total  $\mathbf{B}_{\text{tot}} = \mathbf{B}_{\text{terre}} + \mathbf{B}_0$ .



Pour une spire de rayon  $R$ , parcourue par un courant  $I$ , le champ généré au centre de la spire vaut

$$\mathbf{B} = \frac{\mu_0 I}{2R}.$$

Ainsi, la déviation est reliée simplement à  $B_{\text{terre}}$  selon

$$\tan \alpha = \frac{\mu_0 I}{2RB_{\text{terre}}}$$

## 2) Manipulation

A partir de l'ordre de grandeur du champ magnétique terrestre, et sachant que **le courant maximal admissible par une spire est de 5A !!!**, choisir le rayon de spire le mieux adapté pour observer une déviation notable.

A l'aide d'une alimentation continue et d'un ampèremètre, mesurer la déviation  $\alpha$  en fonction du courant  $I$ . Quel est le paramètre dont l'incertitude domine dans la mesure ? On prendra soin de l'estimer soigneusement pour chaque mesure.

A l'aide d'un ajustement avec le logiciel de votre choix, en déduire la valeur de la composante horizontale du champ terrestre. Commenter.

Quel intérêt a-t-on de prendre des valeurs négatives et positives du courant  $I$  pour la mesure ? Doit-on modifier alors la fonction d'ajustement de  $\alpha(I)$  ? et si oui, comment ?

## IV) Chute d'un aimant dans un tube métallique

### 1) Freinage magnétique : principe

Le freinage magnétique est une application concrète de l'existence des courants de Foucault. En effet, conformément aux lois de l'induction, lorsqu'un métal (ferromagnétique ou non) est soumis à un champ magnétique variable, des boucles de courant sont induites dans le volume du métal. La présence de ces courants peut être mise en évidence soit par la dissipation Joule

(chauffage par induction), soit par la création d'un nouveau champ magnétique qui tend à s'opposer au premier. C'est ce dernier effet qui est à l'origine du freinage magnétique, qu'on se propose d'illustrer. On laisse tomber un aimant à l'intérieur d'un tube de métal. La force de freinage va équilibrer la force de gravité, de manière à avoir une vitesse de chute constante. Le temps de chute sera augmenté par rapport au cas en l'absence de métal et se trouve être proportionnel à la conductivité électrique du métal. Dans notre cas, on détecte le passage de l'aimant à travers des bobines enserrant le tube, en visualisant à l'oscilloscope la tension induite alors à leurs bornes. On compare le temps de chute et l'amplitude du signal électrique, pour des tubes de cuivre, laiton, duralumin et plexiglas (ce dernier est un plastique transparent servant de référence).

## 2) Préparation et expérience

Avec des pinces de chimie attachées à un pied d'optique, fixer le tube par l'extrémité supérieure et veiller à ce qu'il soit bien vertical. Les deux bobines mobiles s'enfilent sur le tube et sont maintenues par deux autres pinces. Placer la deuxième bobine un peu au-dessus de l'extrémité inférieure, et la première 25 cm plus haut par exemple. La distance entre les deux bobines est notée  $L$ . Mettre de la mousse (2 épaisseurs) sous le tube. L'aimant utilisé est composé de l'association de 3 aimants NdFeB très puissants. Éviter de l'approcher des écrans cathodiques ou d'autres dispositifs sensibles, et aussi de tout objet en acier (par exemple le pied), car il est alors difficile à décoller. Enfin ces aimants sont assez fragiles, c'est pourquoi on met de la mousse sous le tube.

Connecter les deux voies d'un oscilloscope numérique aux deux bobines. Régler le déclenchement en mode DC sur **Single** et adapter le **Level** à environ 0.5 V. Laisser tomber l'aimant en haut du tube sans vitesse initiale. Les signaux obtenus ont une amplitude typique de l'ordre du volt, avec des formes caractéristiques qu'on retrouve sur les deux voies, mais décalées temporellement d'une centaine de millisecondes. La différence de temps  $T$  entre ces deux courbes correspond au temps de chute sur la distance  $L$ . On peut en déduire la vitesse de chute dans le tube. On peut montrer aussi que l'amplitude du signal est proportionnelle à la vitesse de passage à travers une bobine (voir BUP 822 et 823). Ainsi, si les deux courbes ont même amplitude, on en déduit que la vitesse reste constante entre les deux bobines et donc que la vitesse limite est atteinte (et si sur un signal les deux alternances ont la même amplitude, c'est que la vitesse est constante au passage de la bobine). Comparer les vitesses de chute, pour le plexiglas (plastique transparent), le cuivre (orangé), le laiton (jaune) et le duralumin (gris). En déduire le rapport de conductivité entre le cuivre et le laiton et le duralumin.

## 3) Interprétation

### a) Le freinage magnétique

Lorsque l'aimant chute à la vitesse  $\vec{v}$ , il se forme dans le référentiel du tube un champ électrique induit  $\vec{E} = -\vec{v} \wedge \vec{B}$ , où  $\vec{B}$  est le champ magnétique produit par l'aimant ( $-\vec{v}$  est la vitesse du tube par rapport à l'aimant), et il se crée des courants électriques dans le volume du tube, dont la densité vérifie localement  $\vec{j} = \sigma \vec{E}$ . L'aimant exerce alors une force de Laplace sur le tube du fait des courants qui le traversent, et réciproquement le tube exerce une force de freinage sur l'aimant. Ces courants dissipent de l'énergie par effet Joule et en régime permanent



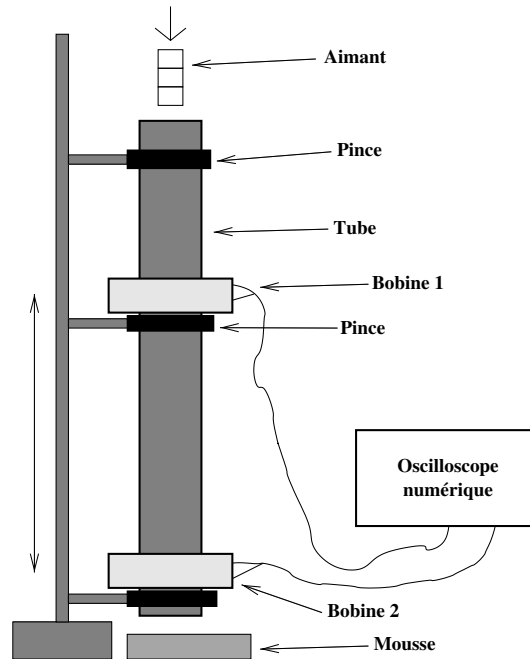


FIG. 1 – Schéma de l'expérience

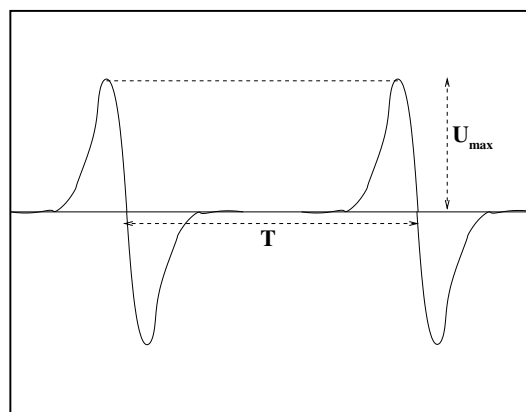


FIG. 2 – Signal observé à l'oscilloscope (deux voies) lors du passage de l'aimant à travers les bobines.

(au bout d'environ 10 cm de chute), la puissance dissipée par effet Joule égale la puissance de la force de gravité. Faire un calcul de la forme de la force est assez complexe, car le champ magnétique de l'aimant n'est pas rigoureusement dipolaire, et deux longueurs caractéristiques, le rayon intérieur du tube et son épaisseur, interviennent dans le problème. Néanmoins, on peut montrer que la force de freinage est proportionnelle à la conductivité du métal et à la vitesse de l'aimant. On a ainsi une force de freinage de type frottement visqueux.

Dans les applications industrielles, c'est en général une pièce mobile métallique qui est freinée dans le champ d'un électroaimant (freinage des roues de camion).

## b) La technique de mesure

On mesure aux bornes d'une bobine la f.é.m. induite  $e_{induite} = -\frac{d\Phi}{dt}$ , où  $\Phi$  est le flux du champ magnétique de l'aimant à travers la surface circulaire contenue dans la bobine. Lorsque l'aimant s'approche, si le flux augmente (cela dépend du pôle de l'aimant et de l'orientation choisie sur la bobine), la tension est négative, puis lorsque l'aimant s'éloigne du centre de la bobine, le flux diminue et la tension devient positive. Une modélisation simple de la mesure est difficile, en raison des dimensions respectives des bobines et de l'aimant. Néanmoins, la tension maximale est en ordre de grandeur proportionnelle à la vitesse de chute de l'aimant.

## 4) Données

### a) Dimensions

- Dimensions des tubes métalliques : diamètre intérieur 30 mm, diamètre extérieur 32 mm, longueur 500 mm
- Dimensions du tube en plexiglas : diamètre intérieur 26 mm, diamètre extérieur 32 mm
- Dimensions des bobines de 500 tours : diamètre intérieur 34 mm, longueur 20 mm

### b) Conductivités

Les valeurs proposées ci-dessous ont été déterminées par une mesure directe :

- Conductivité du cuivre (non pur ici) :  $4.8 \times 10^7 \text{ S.m}^{-1}$
- Conductivité du laiton (alliage cuivre + zinc) :  $1.4 \times 10^7 \text{ S.m}^{-1}$
- Conductivité du duralumin (alliage aluminium + cuivre + additifs) :  $2.1 \times 10^7 \text{ S.m}^{-1}$